


## CONSTRUCTION GÉOMÉTRIQUE 8 : DESSINER DES POLYGONES

1. Un polygone régulier doit avoir des \_\_\_\_\_ congruents et des \_\_\_\_\_ congruents.
2. Trouvez la somme des angles internes de l'hexagone ci-dessous.



3. Dessinez un pentagone régulier avec des côtés de 4 cm.

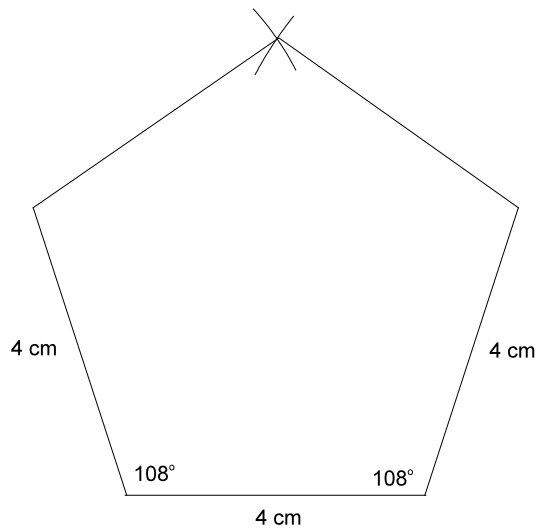
- Dessinez un hexagone avec des côtés de 4,5 cm.

RÉPONSES

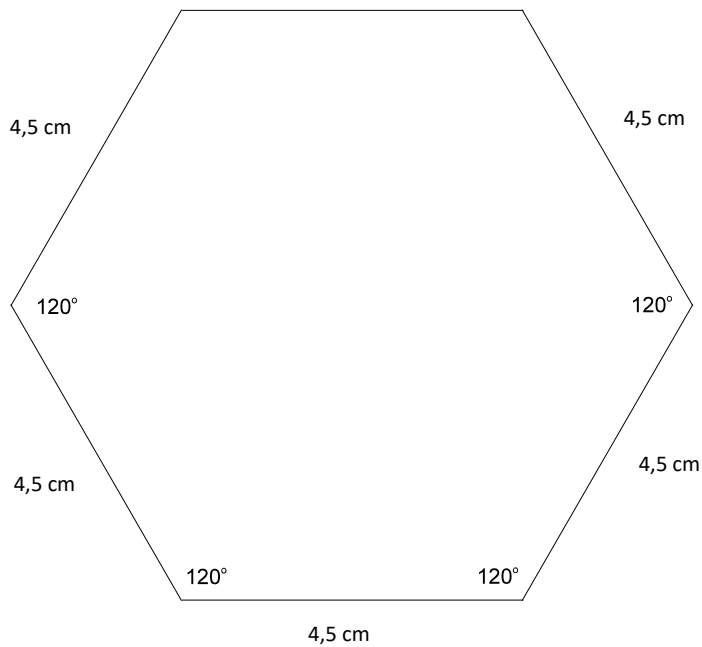
1. côtés et angles

2.  $720^\circ$

3.



4.



Source : Gouvernement de la Colombie-Britannique. Utilisé avec permission.