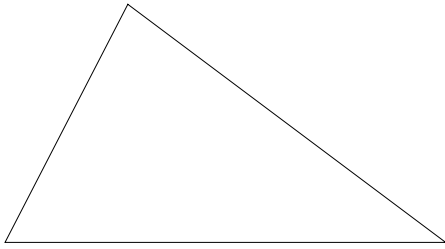


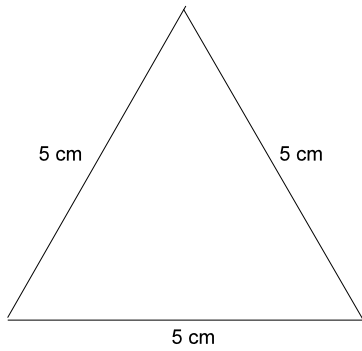
3. Dessinez un triangle identique à celui ci-dessous à l'aide d'un compas et d'une règle.



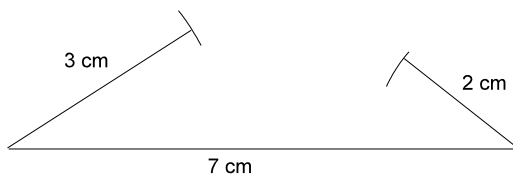
4. Dessinez deux triangles différents où :
 $\triangle ABC$ a $\overline{AB} = 6 \text{ cm}$, $\angle A = 25^\circ$ et $\overline{BC} = 5 \text{ cm}$.

RÉPONSES

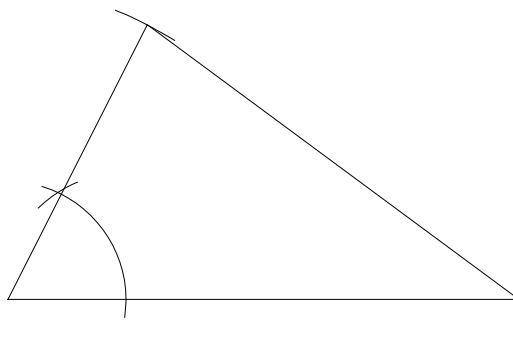
1.



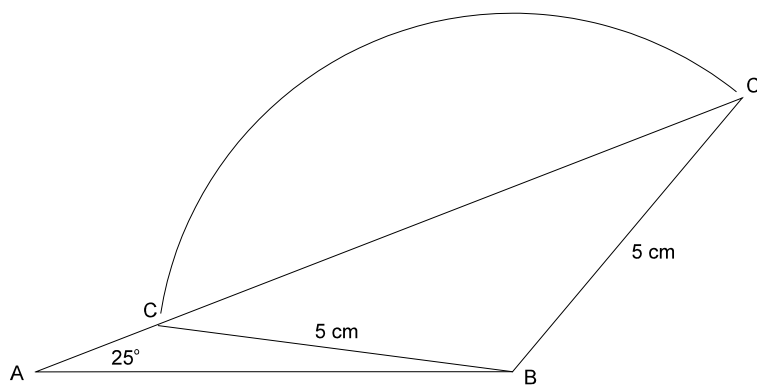
2.



3.



4.



Source : Gouvernement de la Colombie-Britannique. Utilisé avec permission.